

МБОУ Березовская средняя общеобразовательная школа  
имени С.Н. Климова»

Итоговый тест по технологии в 7 классе раздела  
«Создание изделий из конструкционных и поделочных материалов»

Подготовил учитель  
технологии Алейник К.И.

2014

## Итоговый тест по технологии. Обработка металла. 7 класс.

### I. Установите соответствие.

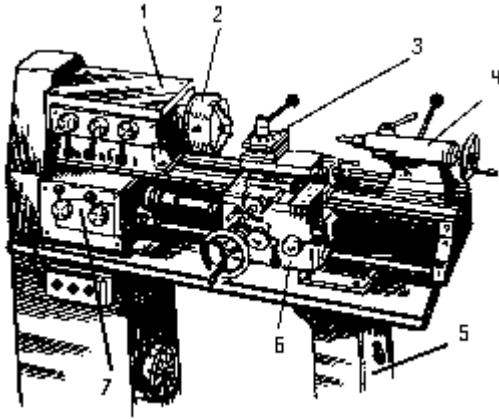
1). *Закалка*

А) нагревание стали до определенной температуры и медленное охлаждение на воздухе

2). *Отпуск*

Б) нагревание стали до определенной температуры и быстрое охлаждение в воде, масле и др. жидкости

### II. Установите соответствие.



- А) передняя бабка
- Б) задняя бабка
- В) патрон
- Г) тумба
- Д) фартук суппорта
- Е) резцедержатель
- Ж) коробка подач

### III. Установите соответствие.

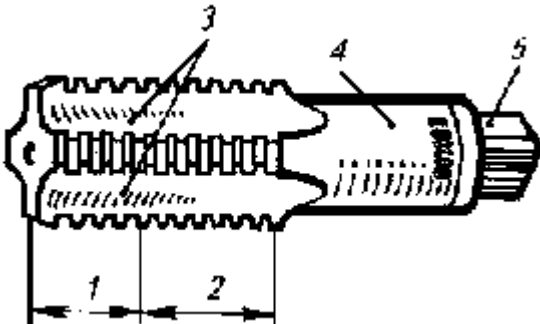


А) прямой проходной    Б) подрезной

В) отрезной

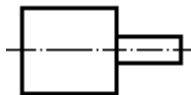
Г) проходной упорный

### IV. Установите соответствие.



- А) заборная часть
- Б) хвостовик
- В) продольные канавки
- Г) квадрат хвостовика
- Д) калибрующая часть

### V. Внимательно изучите рисунок изделия и укажите, какие резцы Вам потребуются для его изготовления:



- А) прямой проходной
- Б) отрезной
- В) проходной упорный
- Г) подрезной

